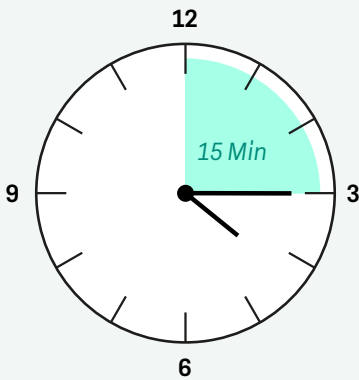



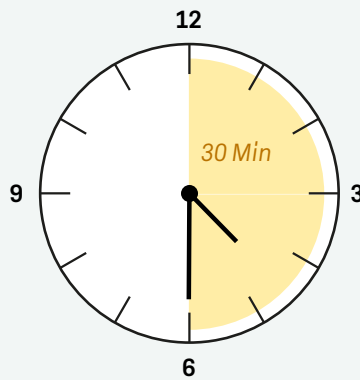
**Volle Stunde**  
**4.00 Uhr** oder **16:00 Uhr**  
 Der **Minutenzeiger** zeigt nach **Oben**

## Zeit ablesen



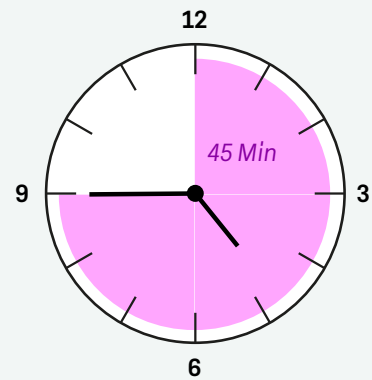
### Viertel Stunde

**4.15 Uhr** oder **16:15 Uhr**  
 Der **Minutenzeiger** zeigt nach **Rechts**  
**Sprich:** 16 Uhr 15  
 (oder Viertel nach Vier)



### Halbe Stunde

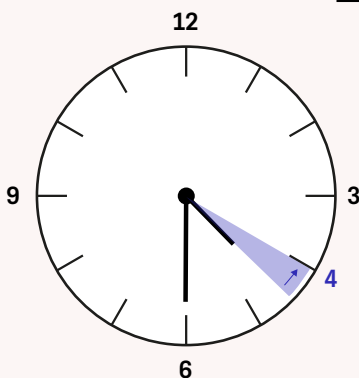
**4.30 Uhr** oder **16:30 Uhr**  
 Der **Minutenzeiger** zeigt nach **Unten**  
**Sprich:** 16 Uhr 30 oder Halb Fünf



### Dreiviertel Stunde

**4.45 Uhr** oder **16:45 Uhr**  
 Der **Minutenzeiger** zeigt nach **Links**  
**Sprich:** 16 Uhr 45  
 (oder Viertel vor Fünf)

## Zeit notieren

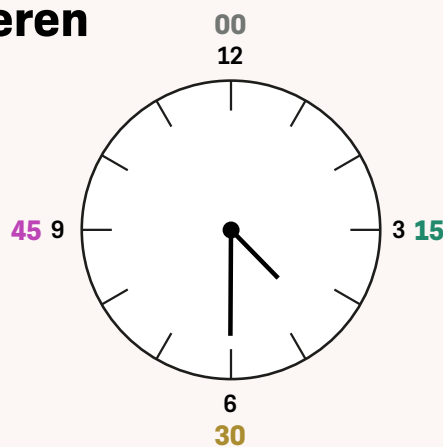


### 1. Stunde notieren

Finde die Stunde **vor** dem kleinen Zeiger.

Schreibe sie auf: 

4.			
16.			

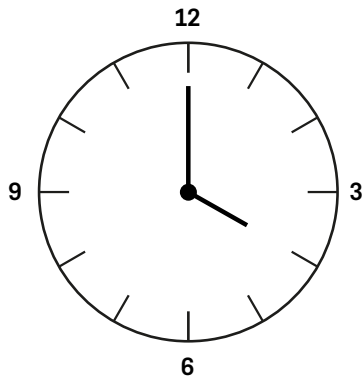


### 2. Minuten notieren

Wo steht der grosse Zeiger? (Oben, Rechts, Unten, Links)

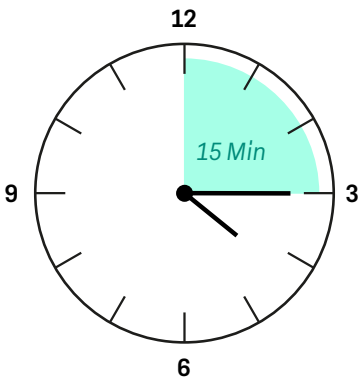

Schreibe die Minuten auf: 

4.30				
16.30				



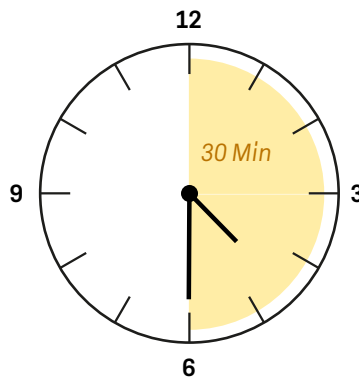
**Volle Stunde**  
**4.00 Uhr** oder **16:00 Uhr**  
 Der **Minutenzeiger** zeigt nach **Oben**

## Zeit ablesen



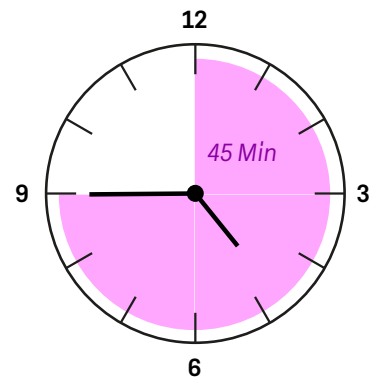
### Viertel Stunde

**4.15 Uhr** oder **16:15 Uhr**  
 Der **Minutenzeiger** zeigt nach **Rechts**  
**Sprich:** 16 Uhr 15  
 (oder Viertel nach Vier)



### Halbe Stunde

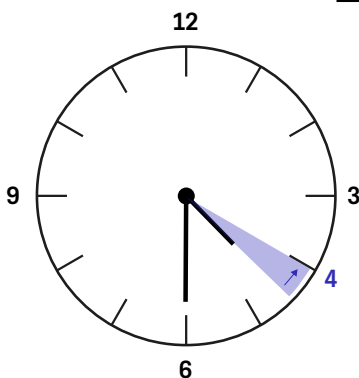
**4.30 Uhr** oder **16:30 Uhr**  
 Der **Minutenzeiger** zeigt nach **Unten**  
**Sprich:** 16 Uhr 30 oder Halb Fünf



### Dreiviertel Stunde

**4.45 Uhr** oder **16:45 Uhr**  
 Der **Minutenzeiger** zeigt nach **Links**  
**Sprich:** 16 Uhr 45  
 (oder Viertel vor Fünf)

## Zeit notieren

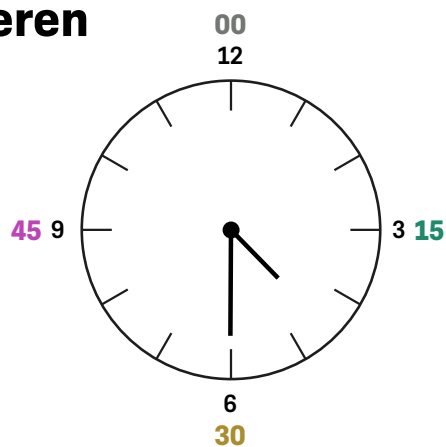


### 1. Stunde notieren

Finde die Stunde **vor** dem kleinen Zeiger.

Schreibe sie auf: 

4.			
16.			



### 2. Minuten notieren

Wo steht der grosse Zeiger? (Oben, Rechts, Unten, Links)

Schreibe die Minuten auf: 

4.30	Uhr
16.30	Uhr